


Unidad didáctica 2: "¿Dónde está Grecia?"

En esta segunda unidad didáctica del Curso voy a aprender lo siguiente:

1. Descubriré dónde está *Grecia* en la actualidad y las características más importantes de este país europeo.
2. Descubriré qué zonas ocupaba *Grecia* en la Antigüedad.
3. Conoceré el nombre de las regiones y ciudades más importantes de la *Grecia Clásica*.
4. Aprenderé a situar en un mapa geográfico esos lugares más importantes.
5. Conoceré las características topográficas más importantes de ese país.
6. Conoceré las características climáticas de las distintas zonas de *Grecia*.
7. Descubriré si los griegos en el pasado conocían España y las Islas Canarias.





VIDEO

Ahora veremos un documental sobre la Grecia Clásica, para que te hagas una idea de esta civilización y conozcas algunos de los aspectos sobre los que profundizaremos durante el curso. El título del documental es "**Civilizaciones perdidas: Grecia**". Presta atención y toma algunas notas, pues luego deberás contestar a unas preguntas sobre el mismo.


CUESTIONARIO SOBRE EL VIDEO DE GRECIA.

1. ¿En qué siglo fue construida la Acrópolis?
2. ¿Bajo el mandato de qué político famoso floreció Atenas?
3. ¿Quién era la diosa benefactora de la ciudad?
4. ¿Cuál era el nombre del famoso escultor que intervino en la construcción de Atenas?
5. ¿Qué famoso filósofo frecuentaba los banquetes y fiestas en Atenas?
6. ¿De dónde eran las únicas mujeres que tenían permiso para acudir a los banquetes?
7. ¿Qué sistema de gobierno surgió en Atenas?
8. ¿Cómo se llamaba el dios griego del mar?
9. ¿En qué monte residían los principales dioses griegos?
10. ¿Cómo se llamaba el dios que reinaba por encima de los demás dioses?
11. ¿Cómo se llamaba el santuario más importante de la antigua Grecia?
12. ¿A qué dios estaba dedicado?
13. ¿Cómo se llamaba la persona a la que acudía la gente para preguntarle por su futuro?
14. ¿Cómo se llamaba el dios del vino?
15. ¿Qué nombre recibían las mujeres que acudían a honrarlo?
16. ¿Qué faceta del arte tuvo su origen en estos festivales religiosos?
17. ¿Cuál era el premio que recibían los ganadores en las competiciones deportivas?
18. ¿Qué práctica sexual era muy común en la Grecia antigua?
19. ¿A qué filósofo juzgaron los atenienses y luego lo condenaron a morir?
20. ¿Qué enfermedad asoló Atenas en tiempos de Pericles?
21. ¿Con qué ciudad rivalizó Atenas en época clásica, perdiendo la hegemonía de Grecia?
22. ¿Qué veneno bebió Sócrates para morir?
23. ¿Cómo se llama la principal construcción que se encuentra en la Acrópolis?

CONTESTA AHORA

Una vez visto el vídeo y con la ayuda de tus anotaciones contesta a las preguntas de comprensión. Pon una cruz si está bien y, al final, suma el número de respuestas correctas y ponlo en el total:

Nº	TU RESPUESTA	RESPUESTA CORRECTA	
1.	<input type="checkbox"/>
2.	<input type="checkbox"/>
3.	<input type="checkbox"/>
4.	<input type="checkbox"/>
5.	<input type="checkbox"/>
6.	<input type="checkbox"/>
7.	<input type="checkbox"/>
8.	<input type="checkbox"/>
9.	<input type="checkbox"/>
10.	<input type="checkbox"/>
11.	<input type="checkbox"/>
12.	<input type="checkbox"/>
13.	<input type="checkbox"/>
14.	<input type="checkbox"/>
15.	<input type="checkbox"/>
16.	<input type="checkbox"/>
17.	<input type="checkbox"/>
18.	<input type="checkbox"/>
19.	<input type="checkbox"/>
20.	<input type="checkbox"/>
21.	<input type="checkbox"/>
22.	<input type="checkbox"/>
23.	<input type="checkbox"/>
	<input type="checkbox"/>
			<input type="checkbox"/>



TRABAJO DE INVESTIGACIÓN

Bien, ya es hora de que empieces a familiarizarte un poco más con este país que ha sido tan importante para la historia de la Humanidad. Para ello te propongo que realices un pequeño trabajo de investigación siguiendo los siguientes pasos:

- 1.- Busca en un atlas la localización de Grecia.
- 2.- Busca en una enciclopedia la siguiente información sobre este país: principales regiones, ciudades, ríos, montes e islas. Esta información no debe superar los dos folios.
- 3.- Dibuja un mapa de Grecia del tamaño de un folio con los principales ríos, montes, islas, regiones y ciudades que han aparecido en el video anterior.

Recuerda que para que tu trabajo sea valorado justamente tiene que causar buena impresión. Así que, esfuérate para que la letra sea clara y se pueda entender, y, sobre todo, dale mucha importancia a la limpieza de modo que no haya tachones ni tippex.

Cuando lo tengas hecho, tendrás que compartir tu información con el resto de compañeros y comentar lo que ellos hagan, para intentar conseguir entre todos una buena imagen de conjunto.



DATOS GEOGRÁFICOS DE GRECIA

Aquí tienes algunos datos importantes sobre la geografía y el clima de Grecia.

SITUACIÓN

Grecia, localizada en Europa Meridional, ocupa la parte más al sur de la Península Balcánica y cuenta con más de 2.000 islas. Limita al Noroeste con Albania, al Norte con Macedonia y Bulgaria, y al Nordeste con Turquía. Por el Este la baña el Mar Egeo, al Sur el Mediterráneo y al Oeste el Mar Jónico. Por otro lado, en la Grecia Clásica su territorio abarcaba también el Sur de Italia y Sicilia, además de la costa occidental de Turquía, llamada Asia Menor.

TOPOGRAFÍA

Grecia es célebre por su belleza natural. El terreno es muy accidentado, siendo el 80% del mismo montañoso. Así, el monte Olimpo (2917 metros), situado en el Norte, es el más alto. El resto de montañas disminuyen en su altitud a medida que avanzan hacia el Sur: el Parnaso (2450 metros) en el centro es el último importante. Otro rasgo principal de Grecia es que tiene ríos de poca extensión, pero muy caudalosos en invierno.

Sin embargo, lo más destacado es el gran número de islas que posee este país, unas dos mil, y que hizo del pueblo griego un pueblo marinero. Como escribió el geógrafo griego Estrabón, "el mar presiona sobre el país con miles de brazos". Las aguas costeras de Grecia son poco profundas y penetran bastante tierra adentro.

Desde un punto de vista de Geografía Física, podemos dividir el territorio metropolitano griego en las siguientes regiones:

- Grecia Septentrional (situada al Norte).
- Grecia Central.
- Grecia Meridional (situada al Sur).
- Asia Menor.

A.1.- Grecia Septentrional.

Tiene un clima continental, con veranos calurosos e inviernos fríos. De Oeste a Este está formada por las siguientes regiones: Epiro, Tesalia, Macedonia y Tracia. La población de esta parte de Grecia estaba muy mezclada con muchos pueblos bárbaros, no griegos.

El **Épiro** es una región montañosa en la que sobresale el monte Pindo (2633 metros) y en la que destaca el río Ínaco. **Tesalia** es una llanura fértil dedicada a la cría de caballos; esta llanura estaba cercada por los montes Olimpo al Norte y Pelión al Sur, destacando el río Peneo. Al Noreste se encuentran **Macedonia** y **Tracia** con abundantes elevaciones y depresiones que se prolongan hasta la costa y la Península Calcídica.

A.2.- Grecia Central.

Al sur del Golfo de Ambracia se extiende la Grecia Central con menores elevaciones y más sometida al clima mediterráneo (veranos muy calurosos e inviernos templados).

Las **Islas Jónicas** al Oeste y la gran isla de **Eubea** al Este, muy próxima al continente, son prolongaciones del mismo. Consta el continente de Oeste a Este de las regiones de **Etolia**, **Lócride-Dóride** con el monte Parnaso, **Beocia** con el Citerión y **Ática**, siendo estas dos últimas regiones las más importantes geográfica e históricamente. El **Ática** está surcada por numerosos valles y llanuras, y en ella se encuentra la capital Atenas.

A.3.- Grecia Meridional.

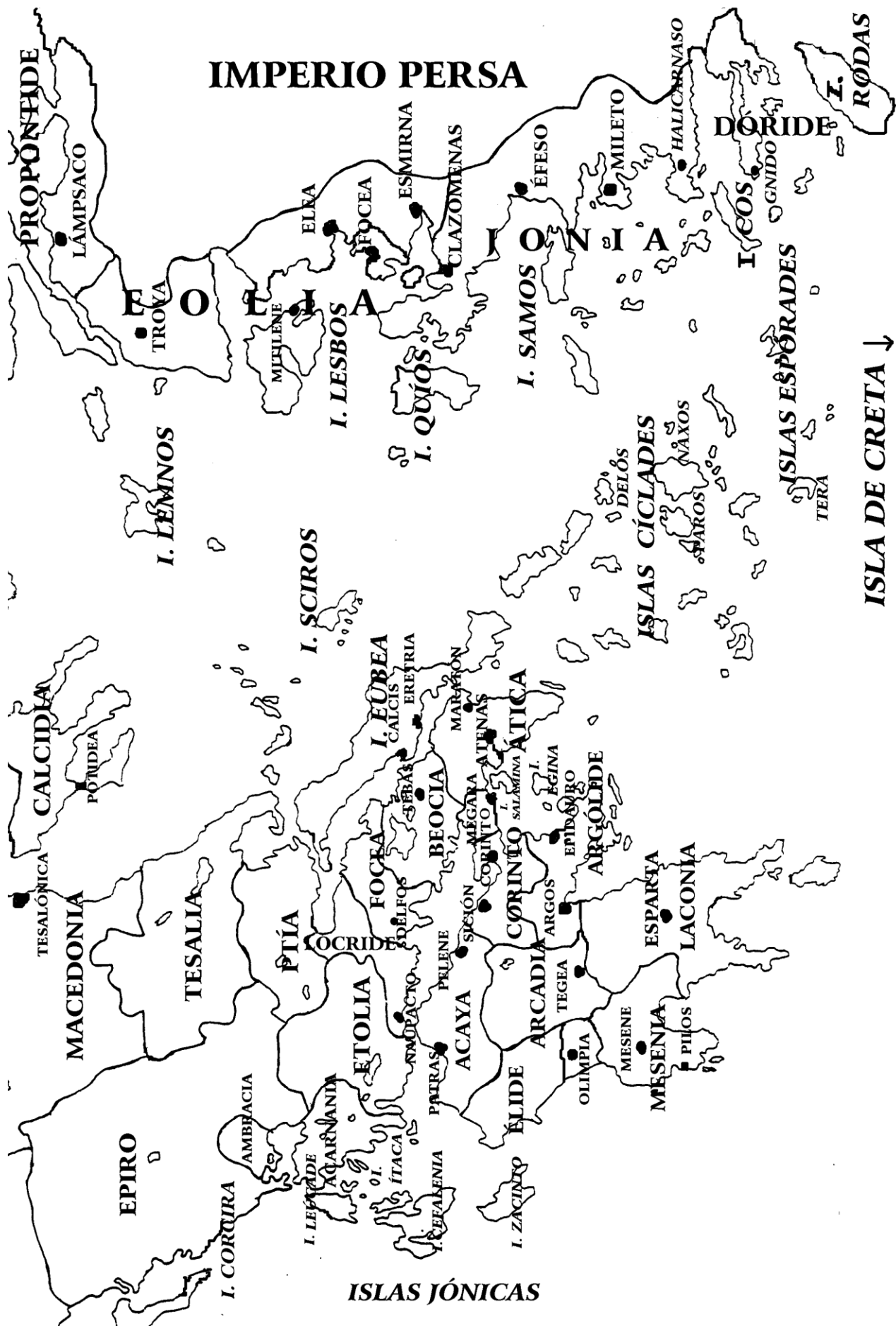
El **Peloponeso** es una península unida en la Antigüedad al continente por el Istmo de Corinto (perforado hoy por el canal de este nombre). Esta península presenta montañas de escasa elevación, salvo el monte Taigeto (2407 metros) al Sur, y su río más importante es el Alfeo, que pasa por la ciudad de Olimpia. Por su parte, el Peloponeso estaba dividido en las siguientes regiones: **Corinto**, **Acaya**, **Élide**, **Trifilia**, **Arcadia**, **Argólide**, **Mesenia** y **Laconia**.

A la Grecia Meridional pertenecen también las **Islas Cícladas**, las **Espórades**, que son el resultado de diversos hundimientos montañosos, y la gran isla de **Creta**, que situada al Sur (a igual distancia del continente europeo y del africano) está cruzada de Oeste a Este por la cordillera del monte Ida.

CLIMA

En las tierras bajas, los veranos son calurosos y secos y los inviernos lluviosos. Las zonas de montaña son mucho más frescas y en ellas se registran importantes precipitaciones durante los meses de verano. Las heladas y nevadas son muy raras en las tierras bajas, mientras que las montañas aparecen cubiertas de nieve en invierno.

La temperatura media anual en Atenas es de 17 °C, aunque los valores extremos oscilan entre -1 °C en enero y 37 °C en julio.



IMPERIO PERSA

PROPONTIDE

LAMPISACO

TROVA

I. LEMNOS

MITILENE

ELINA

I. LESBOS

FOCEA

ESMIRNA

CLAZOMENAS

I. QUIOS

I. SAMOS

EFESO

MILETO

HALICARNASO

ICIOS

GNIDO

I. RODAS

DORIDE

ISLAS ESPÓRADES

TERA

ISLA DE CRETA ↓

TESALÓNICA

MACEDONIA

EPIRO

TESALIA

I. CORQUIRA

I. LEVANTE

ACARNANIA

ETOLIA

FOCICA

BOEOTIA

ATENAS

ATICA

I. EUBEA

CALCIS

ERETRIA

MARATON

MEGARA

CORINTO

SALAMINA

ARGOLIDE

ARGOS

ESPARTA

LACONIA

ARCADIA

TEGEA

OLIMPIA

MESENE

MESENIA

PILOS

ACAYA

PELENE

SIÇON

ARGOS

EPIDORO

EGINA

ARGOLIDE

ESPARTA

LACONIA

ARCADIA

TEGEA

OLIMPIA

MESENE

MESENIA

PILOS

ACAYA

PELENE

SIÇON

ARGOS

EPIDORO

EGINA

ARGOLIDE

ESPARTA

LACONIA

ARCADIA

TEGEA

OLIMPIA

MESENE

MESENIA

PILOS

ISLAS JÓNICAS



SITUAR EN EL MAPA

1.- Regiones.

- Tesalia
- Etolia.
- Ática.
- Argólide.
- Laconia.
- Jonia.
- Macedonia.
- Beocia.
- Arcadia.
- Corinto.
- Mesenia.
- Eolia.

2. Islas.

- Islas Jónicas.
- Eubea.
- Rodas.
- Cícladas.
- Lesbos.
- Samos.

3. Ciudades y otros lugares importantes:

- Delfos.....Ciudad donde se encontraba un famoso oráculo.
- Tebas.....Cuna de grandes mitos: Edipo, La Esfinge, Antígona, etc.
- Atenas.....Origen de la democracia y la ciudad más importante de Grecia.
- Olimpia.....Santuario en el que nacieron las Olimpíadas.
- Micenas.....Cuna de la Civilización Micénica.
- Esparta.....La eterna rival de Atenas, patria de grandes guerreros.
- Troya.....Ciudad famosa por una gran guerra.

4. Accidentes geográficos:

- Monte Olimpo.....Monte donde residían los dioses griegos.
- Maratón.....Llanura que da nombre a una prueba atlética.
- Salamina.....Símbolo de la libertad griega ante el invasor persa.
- Monte Parnaso.....Monte en el que viven las ninfas que ayudan a los poetas.
- Río Alfeo.....Río sagrado que baña el santuario de Zeus en Olimpia.



MAPA GENERAL



CUESTIONARIO DE COMPRENSIÓN LECTORA

Después de leídos los anteriores datos contesta al siguiente cuestionario:

1. UBICACIÓN DE GRECIA:


- ¿Qué nombre recibe la península donde está ubicada Grecia?
- ¿Entre qué dos mares se encuentra dicha península?
- ¿Qué zonas abarcaba Grecia en la Antigüedad?

2. LUGARES MÁS IMPORTANTES DE GRECIA:

- Di el nombre de las principales regiones griegas situadas en la Península Balcánica.
- ¿Cuáles de estas regiones forman el Peloponeso?
- Di el nombre de alguna ciudad importante de las siguientes regiones:
 - BEOCIA.
 - ÁTICA.
 - LACONIA.
 - ÉLIDE.
- Di el nombre de algunas islas importantes de Grecia.

3. TOPOGRAFÍA DE GRECIA:

- ¿Cómo es el terreno de Grecia?
- ¿Qué nombre recibe uno de los golfos más importantes de Grecia, cuyo nombre es también el de un famoso istmo?
- Grecia tiene una topografía muy variada. Explica someramente cómo son las siguientes zonas de Grecia:
 - Área central.
 - Norte-Sur.
 - Vertiente occidental.
 - El Ática.
 - Macedonia.
 - Tracia.
 - Peloponeso.



LAS ESTIRPES GRIEGAS

El pueblo griego no fue nunca uniforme, sino que surgió de la unión de diferentes tribus, llamadas **estirpes**, que fueron llegando y estableciéndose en la actual Grecia. Estas tribus se diferenciaban por sus dialectos, sus costumbres, sus dioses, formas de gobierno, etc. Por otro lado, se organizaron en torno a ciudades fortificadas, llamadas pólis, que en la práctica actuaban como Estados independientes y que luchaban entre sí por controlar las regiones más fértiles, lo que impidió su unión hasta que en el 343 a.C. lo consiguiera Filipo II de Macedonia. Sin embargo, los griegos eran conscientes de ser un único pueblo, **los helenos**, frente al resto de la Humanidad, los bárbaros, que literalmente significa "los que no saben hablar".

Los nombres de estas estirpes eran:

- **Jonia**. Su principal pólis era Atenas y se extendía por el Ática, Eubea, Calcidia, Propóntide, Lemnos, Jonia e Islas Cíclades.
- **Doria**. Su pólis más importante era Esparta y se extendía por Corinto, Argos, Esparta, Mesenia, Islas Espórades, Dóríde, Rodas, Creta, Islas Jónicas, Ambracia, Corcira, y el territorio de Ptía.
- **Eolia**. Su pólis principal era Tebas, y se extendía por Tesalia, Beocia y Eolia.
- **Estirpes del Noroeste**. Reciben este nombre un conjunto de tribus que se caracterizaban por tener muchas mezclas con otros pueblos no griegos y ser, por ello, los griegos menos civilizados. Estas tribus se extendían por Élide, Acaya, Focea, Lócride, Etolia, Acarnania, Épiro, Macedonia y Tracia.



Pinta con diferentes colores los territorios que ocupaban las distintas estirpes en la Antigüedad sobre el mapa mudo que ya rellenaste con los nombres de los territorios e islas.



GRECIA Y LA PENÍNSULA IBÉRICA

Los antiguos griegos ya conocían la Península Ibérica, con la cual mantuvieron relaciones comerciales e incluso llegaron a fundar alguna colonia como la ciudad de Ampurias en la actual Cataluña. A continuación vamos a leer un texto de un geógrafo griego llamado Estrabón:

« La primera parte de Europa al oeste es, según hemos dicho, Iberia. De ésta la mayor parte está escasamente poblada, pues montañas, bosques y llanuras que tienen un suelo delgado, y ése ni siquiera con la misma abundancia de agua, lo ocupan en su mayor parte. La parte norte es completamente fría por causa de la dureza de su clima y está situada cerca del Océano, a lo que se añade que está al margen y carece de relaciones con las demás zonas del país, de manera que las supera en la precariedad de las condiciones de vida. Tales son las partes, pero la del sur es casi enteramente fértil, singularmente la de más allá de las Columnas de Hércules; y se verá en la descripción de cada una, pero primero vamos a hacer un esbozo de la configuración y las dimensiones del país. Iberia se parece a una piel desplegada en su longitud de oeste a este, teniendo las partes anteriores orientadas hacia el este y de norte a sur en su anchura.»

(Estrabón, *Geografía*, 1, 2-3)

Una vez leído el texto de Estrabón, contesta a las siguientes preguntas en tu cuaderno:

1. ¿Qué nombre daban los griegos a España?
2. ¿Cuántas zonas destaca Estrabón?
3. Describe cada zona.
4. Según Estrabón, ¿a qué se parece Iberia?



COMPLETA TUS CONOCIMIENTOS:

Investiga qué son las Columnas de Hércules y toma nota en tu cuaderno.



GRECIA Y LAS ISLAS CANARIAS

Los griegos de la Antigüedad ya conocían las Islas Canarias, a las que describían en sus mitos como un lugar de gran belleza y fertilidad, donde todo el año existía buen tiempo. Los griegos les dieron distintos nombres. Uno de ellos fue El Jardín de las Hespérides, que aparece en un mito bastante conocido y que está referido a un héroe de gran fuerza. Lee atentamente el texto siguiente y luego contesta el cuestionario en tu cuaderno:

«...Como undécimo trabajo le ordenó hacerse con las manzanas de oro de las Hespérides. Estas manzanas no estaban en Libia como han dicho algunos, sino en el Atlas, entre los Hiperbóreos. Gea se las había regalado a Zeus cuando se desposó con Hera. Las guardaba un dragón inmortal, hijo de Tifón y Equidna, que tenía cien cabezas y emitía muchas y diversas voces. Con él vigilaban también las Hespérides, Egle, Eritía, Hesperia y Aretusa... Heracles a través de Iliria se dirigió apresuradamente al río Eridano y llegó ante las ninfas, hijas de Zeus y Temis. Éstas lo encaminaron a Nereo, a quien Heracles apresó mientras dormía y, aunque el dios adoptó toda clase de formas, lo ató y no lo soltó hasta que supo por él donde se encontraban las Hespérides y sus manzanas. Una vez informado atravesó Libia...

Y al llegar, por tierras de Libia, al mar exterior, recibió la copa de Helios; habiendo cruzado el continente opuesto flechó en el Cáucaso al águila, nacida de Equidna y Tifón, que devoraba el hígado de Prometeo...

Prometeo había advertido a Heracles que no fuera él mismo a buscar las manzanas, sino que enviase a Atlante, y sostuviera entre tanto la bóveda celeste; así, cuando llegó al país de los Hiperbóreos ante Atlante, lo reemplazó, según el consejo recibido.

Atlante, después de coger de las Hespérides tres manzanas, regresó junto con Heracles. Y para no cargar de nuevo con el cielo dijo que él mismo llevaría las manzanas a Euristeo, y ordenó a Heracles que sostuviera la bóveda celeste en su lugar. Heracles accedió, pero con astucia consiguió devolvérsela a Atlante. Aconsejado por Prometeo lo invitó a soportarla mientras él se colocaba una almohadilla en la cabeza. Al oír esto, Atlante dejó las manzanas en el suelo y sostuvo la bóveda; entonces Heracles recogió las manzanas y se marchó.»

(Apolodoro, *Biblioteca*, 2, 5, 11)

1. ¿De qué héroe, autor del trabajo undécimo, se está hablando durante todo el relato?
2. ¿Qué cosa de gran valor había en las Hespérides?
3. ¿Quiénes vigilaban aquel jardín?
4. ¿Quién fue a buscar las manzanas de oro?
5. ¿Cómo se las ingenió Heracles para devolver la bóveda celeste a Atlante?



COMPLETA TUS CONOCIMIENTOS:

Investiga quién fue Prometeo y en qué consistió su mito. Toma nota en tu cuaderno.